

แบบทดสอบก่อนเรียน

เรื่อง การบวกจำนวนสองจำนวนที่ผลบวกไม่เกิน 9 ชั้นประถมศึกษาปีที่ 1

คำชี้แจง ให้นักเรียนทำเครื่องหมาย x ทับตัวอักษรข้อที่ถูกที่สุด

1. จำนวนที่ถูกต้องของรูปภาพทั้งหมดคือข้อใด



ก. 2

ข. 3

ค. 4

2. จำนวนที่ถูกต้องของรูปภาพทั้งหมดคือข้อใด




ก. 5

ข. 6

ค. 7

3. จำนวนที่ถูกต้องของรูปภาพทั้งหมดคือข้อใด




ก. 4

ข. 5

ค. 6

4. จำนวนที่ถูกต้องคือข้อใด



ก. ๕

ข. ๖

ค. ๘

5. จงเขียนประโยคสัญลักษณ์



ก. ประโยคสัญลักษณ์ $3 + 4 = \square$

ข. ประโยคสัญลักษณ์ $3 + 5 = \square$

ค. ประโยคสัญลักษณ์ $6 + 3 = \square$

6. ประโยคสัญลักษณ์ $2 + 1 = \square$ ตรงกับข้อใด



7. $3 + 5 = \square$

ก. 7

ข. 8

ค. 9

8. จากภาพมีมะม่วงทั้งหมดกี่ผล



ก. 3 ผล

ข. 4 ผล

ค. 5 ผล

9. $7 + 0 =$

ก. 5

ข. 6

ค. 7

10. + 3 = 3 + 6 เติมจำนวนใดให้ถูกต้อง

ก. 4

ข. 5

ค. 6

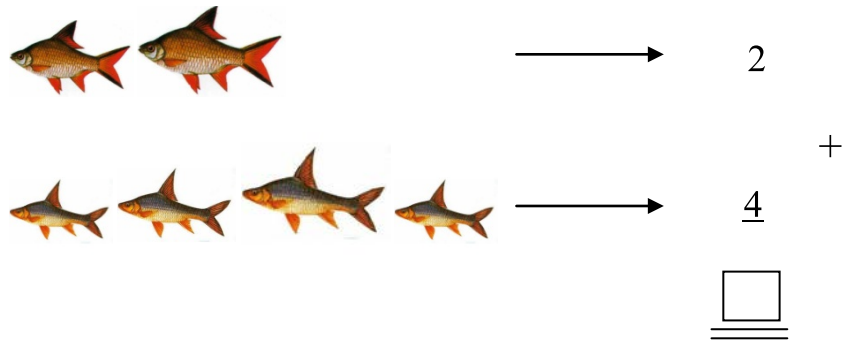
11. $4 + 2 =$ + 4 เติมจำนวนใดให้ถูกต้อง

ก. 2

ข. 3

ค. 4

12. ข้อใดเป็นผลบวกที่ถูกต้อง



ก. 6

ข. 7

ค. 8

13.
$$\begin{array}{r} 4 \\ + \\ \hline 2 \\ \hline \hline \square \end{array}$$

เติมผลบวกใดลงใน

ก. 4

ข. 5

ค. 6

14. ผลลัพธ์ในตารางบวกคือข้อใด

+	3
2	

ก. 3

ข. 4

ค. 5

15. พี่มีลูกโป่ง 4 ลูก แม่ให้มาอีก 2 ลูก พี่มีลูกโป่งทั้งหมดกี่ลูก
จากโจทย์ข้อใดถูกต้อง

ก. พี่มีลูกโป่งน้อยลง

ข. พี่มีลูกโป่งเท่าเดิม

ค. พี่มีลูกโป่งมากขึ้น

16. แม่มีแมว 5 ตัว มีกระต่าย 2 ตัว แม่มีแมวและกระต่ายรวมกี่ตัว
เขียนประโยคสัญลักษณ์ได้อย่างไร

ก. ประโยคสัญลักษณ์ $5 + 2 =$

ข. ประโยคสัญลักษณ์ $4 + 5 =$

ค. ประโยคสัญลักษณ์ $3 + 5 =$

17. พี่มีสมุด 5 เล่ม ซื้อมาอีก 3 เล่ม พี่มีสมุดทั้งหมดกี่เล่ม
โจทย์ถามอะไร

ก. พี่มีสมุด 5 เล่ม

ข. ซื้อมาอีก 3 เล่ม

ค. พี่มีสมุดทั้งหมดกี่เล่ม

18. สีสามีงานสีขาว 3 ใบมีงานสีฟ้า 2 ใบ สีสามีงานทั้งหมดกี่ใบ
จากโจทย์หาคำตอบได้อย่างไร

ก. $3 + 3 = 6$ ใบ

ข. $3 + 2 = 5$ ใบ

ค. $4 + 3 = 7$ ใบ

19.



จากภาพ เขียนโจทย์ปัญหาได้อย่างไร

ก. มีส้ม 3 ผล รวมกับส้ม 2 ผล เป็นส้มทั้งหมดกี่ผล

ข. มีส้ม 3 ผล ให้เพื่อนไป 2 ผล เหลือส้มทั้งหมดกี่ผล

ค. มีส้ม 4 ผล กินไป 2 ผล เหลือส้มกี่ผล

20.



จากภาพ เขียนโจทย์ปัญหาได้อย่างไร

- ก. มีปลา 4 ตัว ให้ตาไป 2 ตัว เหลือปลาที่ตัว
- ข. มีปลา 4 ตัว รวมกับปลา 2 ตัว มีปลาทั้งหมดกี่ตัว
- ค. มีปลา 4 ตัว ให้พ่อไป 2 ตัว เหลือปลาที่ตัว

ชื่อ.....เลขที่.....ชั้น ป.1/.....



คะแนนเต็ม 20คะแนน

คะแนนที่ได้..... คะแนน

ทำได้ไหมครับ