

แบบทดสอบหลังเรียน

เรื่อง การบวกจำนวนสองจำนวนที่ผลบวกไม่เกิน 9 ชั้นประถมศึกษาปีที่ 1

คำชี้แจง ให้นักเรียนทำเครื่องหมาย x ทับตัวอักษรข้อที่ถูกที่สุด

1. จำนวนที่ถูกต้องของรูปภาพทั้งหมดคือข้อใด




ก. 2

ข. 3

ค. 4

2. จำนวนที่ถูกต้องคือข้อใด



ก. ๕

ข. ๖

ค. ๘

3. ประโยคสัญลักษณ์ $2 + 1 = \square$ ตรงกับข้อใด

ก.



ข.



ค.



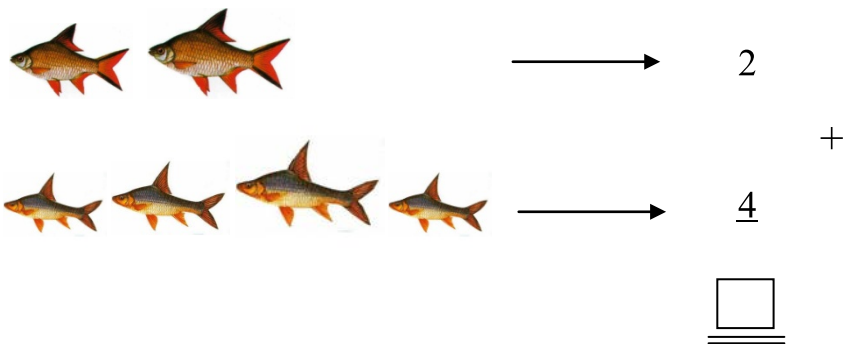
4. $7 + 0 = \square$

ก. 5

ข. 6

ค. 7

5. ข้อใดเป็นผลบวกที่ถูกต้อง



ก. 6

ข. 7

ค. 8

6. ผลลัพธ์ในตารางบวกคือข้อใด

+	3
2	

ก. 3

ข. 4

ค. 5

7. พี่มีสมุด 5 เล่ม ซื้อมาอีก 3 เล่ม พี่มีสมุดทั้งหมดกี่เล่ม
โจทย์ถามอะไร

ก. พี่มีสมุด 5 เล่ม

ข. ซื้อมาอีก 3 เล่ม

ค. พี่มีสมุดทั้งหมดกี่เล่ม

8. จากภาพมีมะม่วงทั้งหมดกี่ผล



ก. 3 ผล

ข. 4 ผล

ค. 5 ผล

9. พี่มีลูกโป่ง 4 ลูก แม่ให้มาอีก 2 ลูก พี่มีลูกโป่งทั้งหมดกี่ลูก
จากโจทย์ข้อใดถูกต้อง

- ก. พี่มีลูกโป่งน้อยลง
- ข. พี่มีลูกโป่งเท่าเดิม
- ค. พี่มีลูกโป่งมากขึ้น

10. จำนวนที่ถูกต้องของรูปภาพทั้งหมดคือข้อใด




- ก. 5
- ข. 6
- ค. 7

11. $3 + 5 = \square$

- ก. 7
- ข. 8
- ค. 9

12.



จากภาพ เขียนโจทย์ปัญหาได้อย่างไร

- ก. มีส้ม 3 ผล รวมกับส้ม 2 ผล เป็นส้มทั้งหมดกี่ผล
- ข. มีส้ม 3 ผล ให้เพื่อนไป 2 ผล เหลือส้มทั้งหมดกี่ผล
- ค. มีส้ม 4 ผล กินไป 2 ผล เหลือส้มกี่ผล

13. + 3 = 3 + 6 เติมจำนวนใดให้ถูกต้อง

- ก. 4
- ข. 5
- ค. 6

14. แม่มีแมว 5 ตัว มีกระต่าย 2 ตัว แม่มีแมวและกระต่ายรวมกี่ตัว
เขียนประโยคสัญลักษณ์ได้อย่างไร

- ก. ประโยคสัญลักษณ์ $5 + 2 = \square$
- ข. ประโยคสัญลักษณ์ $4 + 5 = \square$
- ค. ประโยคสัญลักษณ์ $3 + 5 = \square$

15. จำนวนที่ถูกต้องของรูปภาพทั้งหมดคือข้อใด



ก. 4

ข. 5

ค. 6

16. $4 + 2 = \square + 4$ เติมจำนวนใดให้ถูกต้อง

ก. 2

ข. 3

ค. 4

17. จงเขียนประโยคสัญลักษณ์




ก. ประโยคสัญลักษณ์ $3 + 4 = \square$

ข. ประโยคสัญลักษณ์ $3 + 5 = \square$

ค. ประโยคสัญลักษณ์ $6 + 3 = \square$

18.



จากภาพ เขียนโจทย์ปัญหาได้อย่างไร

- ก. มีปลา 4 ตัว ให้ตาไป 2 ตัว เหลือปลาที่ตัว
- ข. มีปลา 4 ตัว รวมกับปลา 2 ตัว มีปลาทั้งหมดกี่ตัว
- ค. มีปลา 4 ตัว ให้พ่อไป 2 ตัว เหลือปลาที่ตัว

19. สีตามีงานสีขาว 3 ใบมีงานสีฟ้า 2 ใบ สีตามีงานทั้งหมดกี่ใบ

จากโจทย์หาคำตอบได้อย่างไร

- ก. $3 + 3 = 6$ ใบ
- ข. $3 + 2 = 5$ ใบ
- ค. $4 + 3 = 7$ ใบ

20. 4

+

$$\begin{array}{r} 2 \\ \hline \square \\ \hline \hline \end{array}$$

เติมผลบวกใดลงใน

- ก. 4
- ข. 5
- ค. 6

ชื่อ.....เลขที่.....ชั้น ป.1/.....

คะแนนเต็ม 20 คะแนน

คะแนนที่ได้..... คะแนน



ทำได้ไหมครับ