


แบบฝึกทักษะที่ 2

การนับรวมสิ่งของต่าง ๆ ที่เกี่ยวข้องกัน
ตั้งแต่สองกลุ่มขึ้นไป

คำชี้แจง ให้นักเรียนเขียนตัวเลขแสดงจำนวนสิ่งของทั้งหมดลงใน ให้


ถูกต้อง (ข้อละ 1 คะแนน)

ตัวอย่าง




8


1



2



3



4



5




6




7




8



9



10



ชื่อ.....เลขที่.....ชั้น ป.1/.....

คะแนนเต็ม 10 คะแนน
คะแนนที่ได้..... คะแนน

