

แบบฝึกทักษะที่ 5

การบวกจำนวนสองจำนวนที่ผลบวกไม่เกิน 9

คำชี้แจง ให้นักเรียนเติมตัวเลขแสดงจำนวนลงใน ให้ถูกต้อง

(ข้อละ 2 คะแนน)

ตัวอย่าง



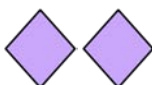
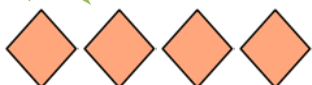
$1 + 3 = 4$

1



$\square + \square = 6$

2



$4 + \square = \square$

3



$\square + 2 = \square$


4



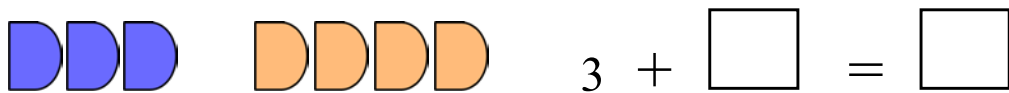
5



6

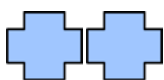


7



8





$$\square + 2 = \square$$



$$\square + \square = 4$$

ชื่อ.....เลขที่.....ชั้น ป.1/.....

คะแนนเต็ม 20 คะแนน

คะแนนที่ได้.....คะแนน

