


แบบฝึกทักษะที่ 4

การเขียนประโยคสัญลักษณ์แสดงการบวก

คำชี้แจง ให้นักเรียนเขียนประโยคสัญลักษณ์แสดงการบวก (ข้อละ 3 คะแนน)

ตัวอย่าง




รวมกับ



ประโยคสัญลักษณ์

$$\boxed{3} + \boxed{2} = \boxed{5}$$

1




รวมกับ



ประโยคสัญลักษณ์

$$\boxed{} + \boxed{} = \boxed{}$$

2




รวมกับ

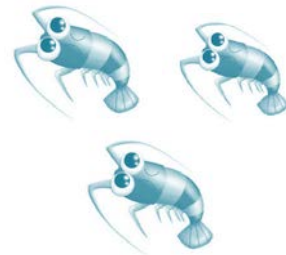


ประโยคสัญลักษณ์ + =

3




รวมกับ




ประโยคสัญลักษณ์ + =

4




รวมกับ



ประโยคสัญลักษณ์

$$\square + \square = \square$$

5




รวมกับ



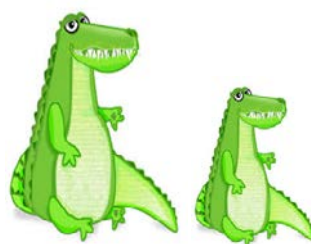
ประโยคสัญลักษณ์

$$\square + \square = \square$$

6




รวมกับ



ประโยคสัญลักษณ์

$$\square + \square = \square$$

7




รวมกับ



ประโยคสัญลักษณ์

$$\square + \square = \square$$

8



รวมกับ



ประโยคสัญลักษณ์

$$\square + \square = \square$$

9



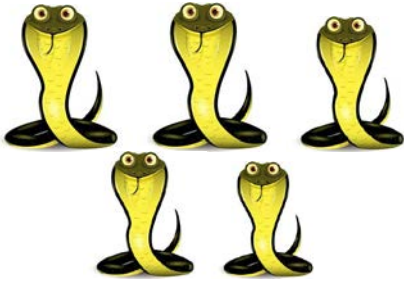
รวมกับ




ประโยคสัญลักษณ์

$$\square + \square = \square$$

10



รวมกับ



ประโยคสัญลักษณ์

$$\square + \square = \square$$

ชื่อ.....เลขที่.....ชั้น ป.1/.....



คะแนนเต็ม 30 คะแนน
คะแนนที่ได้..... คะแนน