


เฉลยแบบฝึกทักษะที่ 4

การเขียนประโยคสัญลักษณ์แสดงการบวก

1



รวมกับ



ประโยคสัญลักษณ์ $\boxed{4} + \boxed{4} = \boxed{8}$

2




รวมกับ

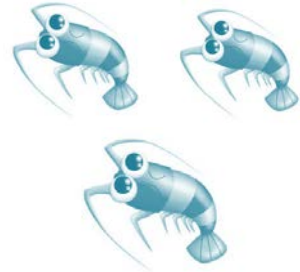


ประโยคสัญลักษณ์ $\boxed{3} + \boxed{1} = \boxed{4}$

3




รวมกับ




ประโยคสัญลักษณ์ $5 + 3 = 8$

4




รวมกับ



ประโยคสัญลักษณ์ $2 + 5 = 7$

5



รวมกับ



ประโยคสัญลักษณ์

6

+

2

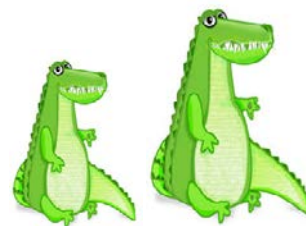
=

8

6



รวมกับ



ประโยคสัญลักษณ์

2


+

2


=

4

7



รวมกับ



ประโยคสัญลักษณ์

2


+

4

=

6

8



รวมกับ



ประโยคสัญลักษณ์

7

+

2

=

9

9



รวมกับ



ประโยคสัญลักษณ์

3


+

3


=

6

10



รวมกับ



ประโยคสัญลักษณ์

5

+

4

=

9